



# 角度

次の問いに答えましょう。

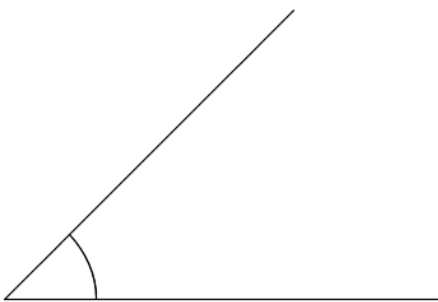
① 1 直角は何度ですか。

② 3 直角は何度ですか。

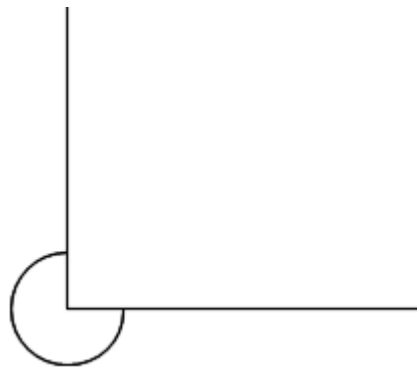
③ 360 度は何直角ですか。

次の角度をはかりましょう。

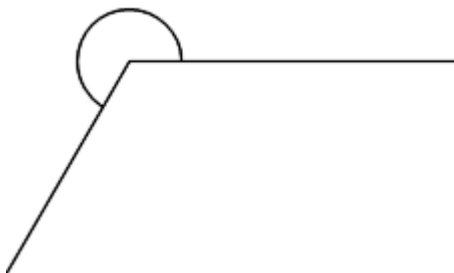
①



②



③



④





## 角度

次の問いに答えましょう。

① 1 直角は何度ですか。

$90^\circ$

② 3 直角は何度ですか。

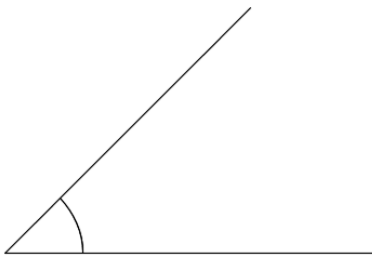
$270^\circ$

③ 360 度は何直角ですか。

4 直角

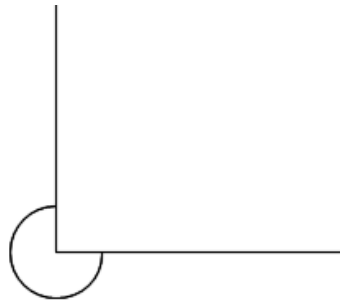
次の角度をはかりましょう。

①



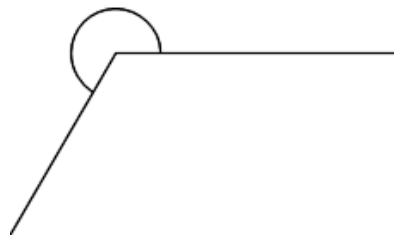
$45^\circ$

②



$270^\circ$

③



$240^\circ$

④



$145^\circ$