

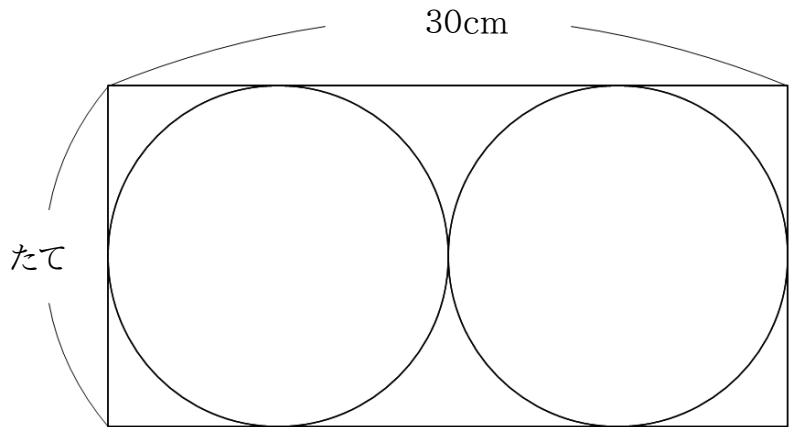
円と球

① 下の図のように長方形の中に円がぴったり2つ入っています。

(1) 円の直径は何cmでしょう。

(2) 円の半径は何cmでしょう。

(3) 長方形のたての長さは何cmでしょう。

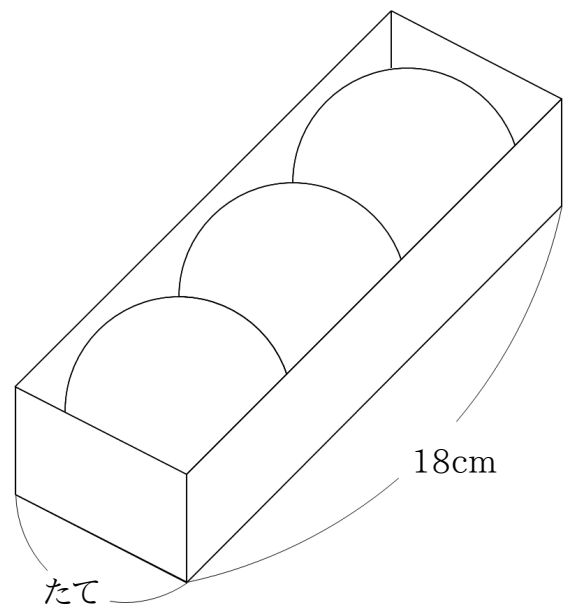


② 下の図のように3つのボールが箱の中にぴったり入っています。

(1) ボールの直径は何cmでしょう。

(2) ボールの半径は何cmでしょう。

(3) 箱のたての長さは何cmでしょう。



円と球

① 下の図のように長方形の中に円がぴったり2つ入っています。

(1) 円の直径は何cmでしょう。

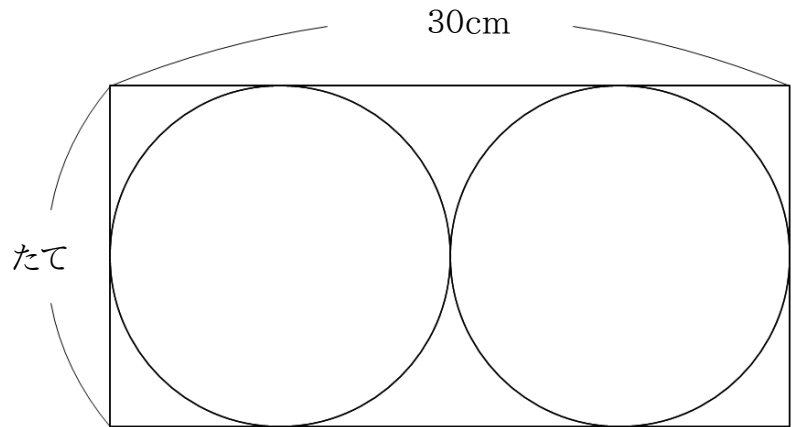
Ans 15cm

(2) 円の半径は何cmでしょう。

Ans 7.5cm

(3) 長方形のたての長さは何cmでしょう。

Ans 15cm



② 下の図のように3つのボールが箱の中にぴったり入っています。

(1) ボールの直径は何cmでしょう。

Ans 6cm

(2) ボールの半径は何cmでしょう。

Ans 3cm

(3) 箱のたての長さは何cmでしょう。

Ans 6cm

